



MİLLÎ EĞİTİM BAKANLIĞI
DİN ÖĞRETİMİ GENEL MÜDÜRLÜĞÜ
HAFIZLIK PROJE İMAM HATİP ORTAOKULU
2022-2023 EĞİTİM ÖĞRETİM YILI
5. SINIF ÖĞRENCİ SEÇİMİ
SINAV SORULARI

12 Haziran 2022

Saat:10.00

Adı ve Soyadı :.....

Sınıfı :.....

SORU SAYISI : 75

SINAV SÜRESİ : 120 Dakika

ÖĞRENCİLERİN DİKKATİNE!

1. Sınıf öğrenci yoklama listesinde belirtilen sınıfta ve sıra numarasında oturunuz.
2. Cevap kağıdındaki kimlik bilgilerinizi doldurunuz.
3. Cevap kağıdı üzerindeki kodlamaları kurşun kalemle yapınız.
4. 3 yanlış cevap 1 doğru cevabı götürceğinden bilmediğiniz soruları boş bırakınız!

SINAV BAŞLAMADAN ÖNCE
KİTAPÇIĞIN ARKA KAPAĞINDAKİ UYARILARI MUTLAKA OKUYUNUZ.

Sınav da 4.sınıf müfredatından Türkçe dersinden 15, Matematik dersinden15, Fen Bilgisi dersinden 15, Sosyal Bilgiler dersinden 10, Din Kültürü ve Ahlak Bilgisi dersinden 10 ve İngilizce dersinden 10 olmak üzere toplam 75 soru olacaktır. Sınav puanları Türkçe (4p), Matematik (4p), Fen Bilgisi (4p), Sosyal Bilgiler (1p), Din Kültürü Ahlak Bilgisi (1p), İngilizce (1p) katsayıları üzerinden hesaplanacaktır.

Bu sınav, 08/04/2022 tarih ve 47527532 sayılı valilik oluruna binaen uygulanmaktadır.



**BÜTÜN
ÖĞRENCİLERİMİZ
ÖZELDİR.**



5. SINIF SEÇME SINAVI TÜRKÇE TESTİ

1) Aşağıdaki cümlelerin hangisinde yazım yanlışlığı yoktur?

- A) Sınava yetmişsekiz öğrenci katıldı.
- B) Bahçede oynarken ağzını yaraladı.
- C) Çocuk kardeşine üç tane şeker almış.
- D) Bu kitabı aslında Perşembe günü okumalı.

2) Aşağıdaki kelimeler alfabetik sıraya dizildiğinde hangisi sondan ikinci sırada yer alır?

- A) Ekin B) Ekmek C) Eksik D) Eksen

3) Doğruluğu kişiden kişiye değişmeyen ifadeler nesnel ifadelerdir. Özne ifadeler ise kanıtlanamaz ve kişisel görüşler içerir.

Bu bilgilere göre aşağıdakilerin hangisi kanıtlanabilirlik açısından diğerlerinden farklıdır?

- A) Yahya Kemal; roman, tiyatro ve öykü dalında eserler vermiştir.
- B) Şinasi, Tanzimat döneminin en beğenilen sanatçısıdır.
- C) "Çalikuşu" romanında bir genç kızın öğretmenlik yılları anlatılmıştır.
- D) "Yaprak Dökümü" romanında toplumun değişen değerleri anlatılmıştır.

4) O kadar sene oldu dün gibi hatırlıyorum, bizim bir ahabımız vardı, öğretmendi. Her zaman temiz giyinir öyle gezerdi. Yüzü çok mesut görünürdü. Hep onun gibi olmak isterdim. Bu ihtiyar kadını hala hatırlarım.

Yukarıdaki metinde altı çizili sözcüklerin eş anlamlıları hangi seçenekte verilmiştir?

- A) yıl – anımsıyorum – mutlu – yaşlı
- B) zaman – katılmıyorum – saadetli – geçkin
- C) yıl – biliyorum – mutlu – zavallı
- D) an – hatırlıyorum – mutlu – hasta

5) Aşağıdaki cümlelerin hangisinde sırasıyla, "kim, ne zaman, nasıl, nereye" sorularının cevabı bulunur?

- A) Ayça, bahardan odun, kömür aldı.
- B) O, geçen hafta pazardan geldi.
- C) Mehmet, akşamleyin Giresun'a gitti.
- D) Murat, ekmeği alınca yürüyerek eve geldi.

6) Aşağıdaki atasözlerinden hangisi gerçek anlamlıdır?

- A) Adalet ile zulüm bir yerde barınmaz.
- B) Kaynayan kazan kapak tutmaz
- C) Eşeği dama çıkartan yine kendi indirir.
- D) Sakla samanı gelir zamanı.

7) "Sabah dereden gelen şırıltı ve horozun ötüşü ile uyanırdı. Kahvaltıda en çok sevdiği kızarmış sıcak ekmeği ve tereyağıydı. Dışarıda rüzgar yüzünü okşarken kuzuların arasına dalar ve onlarla koşmaya başlardı."

Paragrafın anlatımında hangi duyudan yararlanılmamıştır?

- A) Dokunma
- B) İşitme
- C) Görme
- D) Tatma

8) "Başkalarına yararı dokunan, onlara iyi ve güzel şeyleri sunmakla görevli bulunan kimse, ürettiğinden ya da dağıttığından kendisi de faydalanır" cümlesini ifade eden en uygun atasözü aşağıdakilerden hangisidir?

- A) Bana dokunmayan yılan bin yaşasın.
- B) Bal tutan parmağını yalar.
- C) Başa gelen çekilir.
- D) Ayağını yorganına göre uzat.

9) Aşağıdaki cümlelerin hangisinde büyük harflerin kullanılışıyla ilgili bir yanlışlık vardır?

- A) I. Dünya savaşı ne zaman yapılmıştır?
- B) Yardım kuruluşlarımızdan Kızılay da bölgeye geldi.
- C) Akdeniz Bölgesi turizm bakımından gelişmiştir.
- D) Köpeğimiz Karabaş, oyun oynamayı çok sever.

10- "Pazara gitmeyi çok severim. Filemi doldurmadan önce başlarım kalabalığın arasında dolaşmaya. Bir süre böyle pazarlık edenlere bakarım. "Üzüm kaç?" "Aman iyisinden koy!" "Yumurtalar taze mi?" diye peş peşe soranları seyretmeyi, öyle eğlenceli olur ki ! Hele satıcıların bağırışları !"

Paragrafa göre alışveriş yapmadan önce yazar ne yaparmış ?

- A) Pazar yerinin dışında oturmuş.
- B) Yemek yemiş.
- C) Kalabalığın arasında dolaşmış.
- D) Fiyatlara bakmış.

11)

(I) "Altın Elbiseli Adam" adı verilen zırh, Kazakistan'ın Almatı kenti yakınlarındaki bir nehir kenarında 1969'da Kazakistanlı arkeologlar tarafından bulundu. (II) Bu zırh, sanat tarihi açısından âdeta bir şaheser niteliğinde. (III) Zırhın, 18-23 yaşlarında bir Saka prensine ait olduğu düşünülüyor. (IV) Binlerce altın parçayla kaplı bu zırh; gömlek, çizme ve başlıktan oluşuyor.

Bu metinde numaralanmış cümlelerle ilgili aşağıdakilerden hangisi söylenemez?

- A) I. cümlede neden-sonuç anlamı vardır.
- B) II. cümlede kişisel görüşe yer verilmiştir.
- C) III. cümlede kesin olmayan bir bilgi vardır.
- D) IV. cümle kanıtlanabilir bir yargıdır.

12)

Penceremin perdesini havalandıran rüzgâr,
Denizleri köpük köpük dalgalandıran rüzgâr,
Gir içeri usul usul beni bu dertten kurtar.
Bana esmeyi anlat; esip geçmeyi anlat.

Bu dörtlükte şair aşağıdakilerden hangisine seslenmektedir?

- A) Arkadaşına
- B) Fırtınaya
- C) Rüzgâra
- D) Denizlere

13) "Başarı aldıklarınla hayatı devam ettirebilmek değil, verdiklerinle yeni hayatlar başlatabilmektir." diyen biri için aşağıdakilerden hangisi söylenebilir?

- A) Yaşamı sevdiği
- B) Fedakâr olduğu
- C) Çalışkan olduğu
- D) Mutlu olduğu

14)

1. Yola çıktığımızda etrafta puslu bir hava vardı.
2. Trabzon'da bulunduğumuz zamanda bir gün Karadağ'a çıkmak istedik.
3. Yaylaları geçtikçe puslu hava gittikçe artmaya başladı.
4. Şoförümüz yolların ve havanın bozukluğundan dolayı ancak Kayabaşı yaylasına kadar gidebileceğini söyledi.

Yukarıdaki cümlelerle bir paragraf oluşturmak istenildiğinde sıralama nasıl olur?

- A) 4-2-1-3
- B) 1-3-4-2
- C) 2-4-1-3
- D) 3-2-1-4

15) Çok yaşlı bir adam yolda iki büklüm olmuş bastonuna dayanarak zar zor yürüyormuş. Babasının elinden tutarak yürüyen bir çocuk bu yaşlı adamı görmüş ve insanların yaşlanınca bu hale geldiğini bilmeyerek yaşlı adamın yerde bir şeyler aradığını sanmış ve babasına dönüp: "Baba bu yaşlı adam yerde ne arıyor?" diye sormuş, yaşlı adamın neyi kay-bettiğini çok iyi bilen babası da: "....." diye cevap vermiş.


Yukarıdaki boşluğa aşağıdakilerden hangisi getirilmelidir?

- A) Bir şey aramıyor hastalıktan öyle!
- B) Mutluluğu kaybetmiş onu arıyor!
- C) Ne aradığını o da bilmiyor!
- D) Gençliğini arıyor evladım!



5. SINIF SEÇME SINAVI MATEMATİK TESTİ

1)




Buğlem, matematik ödevini hesap makinesi yardımıyla yaparken sayıları bilmeyen kardeşi Hasan'ın diğer hesap makinesini kullanarak kendisini taklit ettiğini görüyor. Kendisinin bulunduğu sonuç ile kardeşinin bulunduğu sonucun farklı olduğunu görünce şaşırıyor.

Dikkatlice incelediğinde kardeşinin hesap makinesindeki tuşların yerlerinin kendi hesap makinesinden farklı olduğunu görüyor. Hasan'ın bulunduğu sonuç ile Buğlem'in bulunduğu sonuç arasındaki fark kaçtır?

- A) 5 B) 183
C) 360 D) 365

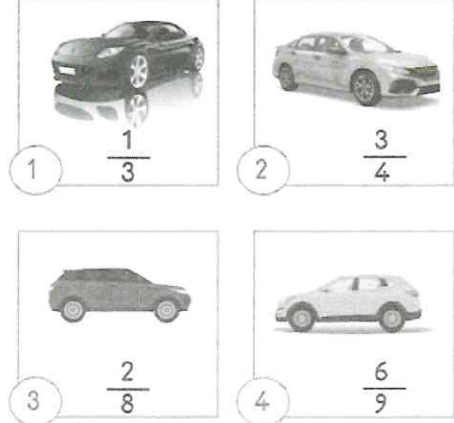
2)



Yukarıdaki vagona bulunan sayıların toplamı ile ilgili yapılan yorumlardan hangisi yanlıştır?

- A) Rakamları toplamı 27'dir.
B) Binler basamağındaki rakamın basamak değeri 4000'dir.
C) Sayı değeri en yüksek rakam yüzler basamağındadır.
D) En yakın onluğa yuvarlanmış hali 14.770'tir.

3)



Yukarıdaki dört arabanın yakıt depoları eşit miktarda benzin almaktadır. Arabaların yakıt depolarındaki benzinin oranları verilmiştir. 2 numaralı arabada 162 litre benzin olduğuna göre dört arabadaki benzinlerin toplam miktarı kaç litredir?

- A) 430
B) 431
C) 432
D) 444

4)



Bir fabrika ile ilgili aşağıdaki bilgiler veriliyor. Bu fabrikada her işçi haftanın 6 günü, bir günün dörtte biri kadar çalışıyor.

Bu fabrikada çalışan tüm işçiler bir ürünü 3 saatte üretebiliyorlar.

Bu fabrika ürettiği 480 ürünü çeşitli mağazalara satıyor. (1 ay 4 hafta olarak hesaplanacaktır.)

Buna göre bu fabrikada satılan ürünler kaç ayda üretilmiştir?

- A) 10
B) 8
C) 6
D) 4

5) Cengiz her iki yüzündeki sayıların farkı 2 olan rakamların yazılı olduğu altı farklı kartı masanın üzerine koyuyor.



- 1-Kartların ön yüzü gri, arka yüzü yeşildir.
- 2-Yeşil kartların üzerinde yazan rakamlar gri yüzünde yazan rakamlardan 2 eksiktir.
- 3-Cengiz kartların gri yüzleri üstte olacak şekilde yan yana sıraladığında "dört yüz doksan beş bin iki yüz seksen yedi" sayısını oluşturuyor.

Kartların sırası değiştirilmeden ters çevrildiğinde oluşan sayı aşağıdakilerden hangisidir?

- A) Dört yüz elli dokuz bin yedi yüz seksen iki
- B) İki yüz otuz yedi bin beş yüz altmış
- C) İki yüz otuz yedi bin beş yüz altmış
- D) İki yüz yetmiş üç bin altmış beş

6) Bir çarpma işleminde çarpanlardan biri 25 çarpım 400'dür. Bu çarpma işleminde çarpanlardan her biri 8 artırılırsa sonuç kaç olur?

- A) 722
- B) 752
- C) 792
- D) 822

7)

Hayriye annesiyle bir çarpma oyunu oynamak istemektedir. Oyunun kuralları aşağıda verilmiştir.

- Oyuna başlamadan önce bir torba getirilir ve kâğıtlara 6 adet sayı yazılıp torbanın içine atılır.
- Torbanın içine sayı atıldıktan sonra oyun başlar.
- Oyuna ilk olarak Hayriye başlar ve sıra sıra devam eder.
- Her kişi torbadan tek tek sayı çeker ve her kişide 3 sayı olunca oyun biter.
- Kişinin kendisinde olan kartların çarpımları en büyük olan kişi oyunu kazanır.

Buna göre torbaya "3,2,5,1,6,4" sayıları atıldığında kazanan kişinin alacağı puan aşağıdakilerden hangisi gibi olamaz?

- A) 48
- B) 36
- C) 38
- D) 30



8) Yukarıda üç çuvalın ağırlığı en yakın onluğa yuvarlanıp toplandığı zaman sonuç 560 kg çıkıyor. Buna göre 3. çuvalın ağırlığı ile 1. çuvalın ağırlığı arasındaki fark aşağıdakilerden hangisi olamaz?

- A) 121 kg
- B) 119 kg
- C) 117 kg
- D) 110 kg

- 9)
- | | | | |
|--|--|--|--|
| | | | |
| | | | |
| | | | |
| | | | |

Mahir ve Tahir görme engellilerin alfabetiyle (Braille Alfabeti) Matematik işlemi yapmayı öğrenmiştir. Birbirlerine okumaları için sayılar yazıp matematiksel işlemleri kullanarak cevaplamaktadırlar. Mahir aşağıdaki işlemi yapması için Tahir'e vermiştir.

$$\begin{matrix} \bullet\bullet & \circ\bullet & \bullet\bullet & \circ\bullet & \bullet\bullet \\ \bullet\circ & \bullet\bullet & \bullet\circ & \circ\circ & \bullet\circ \\ \circ\circ & \circ\circ & \circ\circ & \bullet\circ & \circ\circ \end{matrix} = ?$$

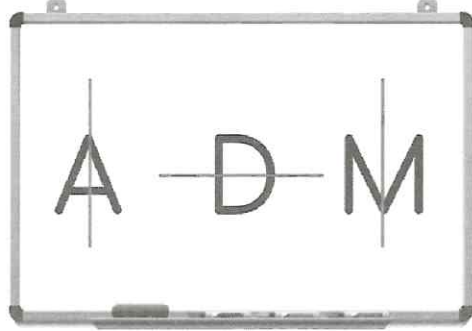
Tahir'in bulduğu doğru sonuç nedir?

- A)
- B)
- C)
- D)

10)

Simetri, bir cismin doğruya eşit uzaklıktaki görüntüsüdür.

Pelin Öğretmen, bu haftanın konusu olan simetrisinin anlamını ifade ettikten sonra örnekleri tahtaya şu şekilde sıralamıştır:




Öğrencilerinin örneklerle konuyu kavradığını düşündükten sonra birkaç kelime, şekil ve sayı yazarak kaç tanesinin simetri konusuna uygun olmadığını sormuştur.

Buna göre öğrenciler Pelin Öğretmene hangi cevabı verirlerse doğru sonuca ulaşırlar?

- A) 2
B) 3
C) 4
D) 5

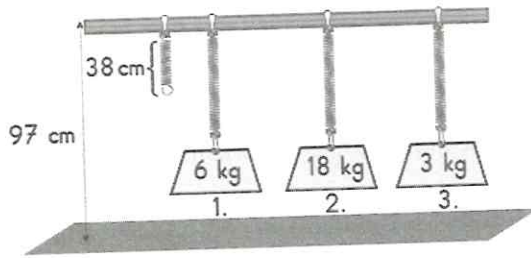
11) Bardaktan kule yapmaya çalışan Nihat, tabana 7 tane bardak koyarak başlıyor. ikinci sıradan itibaren bardakları alttaki iki bardağa birden temas edecek şekilde diziyor. Bu şekilde dizmeye devam ederek en üst katında 1 bardak olacak şekilde kuleyi tamamlıyor. Kuleyi tamamladıktan sonra ise bardakları 1'den başlayarak yukarıdan aşağı numaralandırıyor.



Nihat kule yaptığı bardaklara sayı yazarken kaç kere 2 rakamını kullanır.

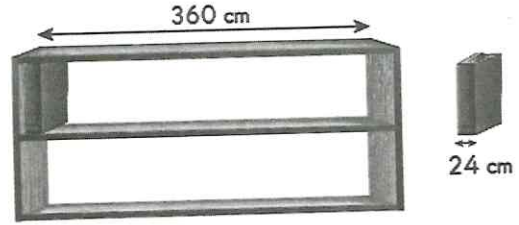
- A) 12
- B) 11
- C) 10
- D) 9

12) Aynı esnekliğe ve uzunluğa sahip yaylar, aynı seviyede bulunmakta iken uçlarına 4 cm yüksekliğinde ağırlıklar bağlanmıştır.



Bu ağırlıklar her 3 kg için yayları 1 cm aşağı çektiğine göre ağırlıkların en alt noktanın zemine olan uzaklıkların toplamı ne kadar olur?

- A) 156 cm
- B) 168 cm
- C) 177 cm
- D) 180 cm




13) Kitapları görselde uzunluğu verilen kitaplığa yerleştirmek isteyen Hatice, aynı uzunluktaki ve genişlikteki iki rafa toplam kaç kitap sığdırabilir?

- A) 15
- B) 30
- C) 40
- D) 45

Dünya'daki 8 yıl, Venüs gezegeninde geçen 13 yıla eşittir.

14) 1948 yılında doğan Salih Bey, 2020 yılında yayınlanan Gezegenler dergisinde yukarıdaki bilgiyi okuyor. Salih Bey Dünyada geçirdiği yılları Venüs gezegeninde geçirdiğini hayal ediyor. 2020 yılında Salih Bey, Venüs gezegeninde yaşasaydı kaç yaşında olurdu?

- A) 72
- B) 113
- C) 108
- D) 117



15) Terzi 80 cm uzunluğundaki bir ipi, 5 cm uzunluğundaki kalemi ölçü olarak kesiyor ve parçalar elde ediyor. Daha sonra bu parçaların 12 tanesini kullanıyor.

Kullandığı bu parçalar tüm ipin ne kadarını oluşturur?

- A) Çeyreği
- B) Yarısı
- C) 2 Çeyreği
- D) Yarım + Çeyreği



5. SINIF SEÇME SINAVI FEN BİLGİSİ TESTİ



Yukarıda Türkiye haritasına göre aşağıdaki verilen bilgilerden hangisi doğrudur?

- A) Güneş en geç IV numaralı şehirde batar.
- B) Güneş en geç II numaralı şehirde batar.
- C) Güneş en erken III numaralı şehirde doğar.
- D) Güneş'in doğma sırası IV, II, I ve III şeklindedir.

2) Miktanis aşağıdakilerden hangisini çeker?

A) Cam Bardak

B) Sünger



C) Çelik Tencere

D) Tahta Masa



- 3)
- I. Talaş – Ataş
 - II. Leblebi tozu – Leblebi
 - III. Kum – Çakıl
 - IV. Un - Kepek

Yukarıdaki karışımların hangisinin ayrıştırılmasında farklı bir yöntem kullanılır?

- A) I
- B) II
- C) III
- D) IV

4) Annesi ile birlikte market alışverişi yapan Berra, aldığı balın üzerinde "Net 400 gram" yazdığını görüyor. Daha sonra bal dolu kavanozu marketteki teraziye koyuyor ve kütlesinin 500 gram olduğunu fark ediyor.

Yukarıda anlatılan durumla ilgili olarak aşağıdakilerden hangisi söylenemez?

- A) Net kütleye boş kabın kütlesi eklenirse brüt kütleye ulaşılır.
- B) Boş kavanozun da bir kütlesi vardır.
- C) Kavanozun darası 100 gramdır.
- D) Sıvıların kütlesi terazi ile ölçülemez.

5) Yukarıdaki aydınlatma araçlarından hangileri günümüzde yaygın olarak kullanılmaktadır?

- A) I ve III
- B) I ve IV
- C) II ve III
- D) I, III ve IV

6) Aşağıdakilerden hangisi ışık kirliliğini ortaya çıkaran nedenler arasında sayılmaz?

- A) Cadde ve sokaklardaki lambaların ışığı toplayacak şekilde korumalı olmaması
- B) Apartman girişine yaklaşıldığında lambaların otomatik olarak yanması
- C) Reklam ve ilan ışıklandırmalarının gökyüzünü aydınlatması
- D) Vitrinlerde aşırı ışıklandırma yapılması

7)

	Ampuller bir miktar ısı yayar.
	Pillerin çıkıntılı olan kısmında (-) işareti bulunur.
	Ampuller kendi başlarına ışık verebilir.
	Piller bazı zararlı kimyasallar içerir.

Basit elektrik devreleri ile ilgili olarak verilen ifadelerden doğru olanların başına D, yanlış olanların başına Y yazıldığında kutucukların yukarıdan aşağıya görüntüsü nasıl olur?

A)	<table border="1"><tr><td>D</td></tr><tr><td>D</td></tr><tr><td>Y</td></tr><tr><td>Y</td></tr></table>	D	D	Y	Y	B)	<table border="1"><tr><td>D</td></tr><tr><td>Y</td></tr><tr><td>D</td></tr><tr><td>Y</td></tr></table>	D	Y	D	Y
D											
D											
Y											
Y											
D											
Y											
D											
Y											
C)	<table border="1"><tr><td>D</td></tr><tr><td>Y</td></tr><tr><td>D</td></tr><tr><td>D</td></tr></table>	D	Y	D	D	D)	<table border="1"><tr><td>D</td></tr><tr><td>Y</td></tr><tr><td>Y</td></tr><tr><td>D</td></tr></table>	D	Y	Y	D
D											
Y											
D											
D											
D											
Y											
Y											
D											

8) Aşağıdakilerden hangisi kuvvetin şekil değiştirici etkisine bir örnek değildir?

- A) Açık pencerenin kapatılması
- B) Elde sıkılan oyun hamuru
- C) Topun camı kırması
- D) Zeytinden zeytinyağı elde edilmesi

9) Zehra Hanım küçük kızının kolluk takarak denize girmesini istiyor.

Buna göre Zehra Hanım kollarının hangi özelliğinden yararlanmak istiyor?

- A) Suyu emme
- B) Suda yüzme
- C) Suda batma
- D) Suyu emmeme

10) Zümra ve arkadaşları enerji verimliliği kulübü olarak okullarında "Suyun Tasarruflu Kullanılması" konulu proje yarışmasını düzenlemişlerdir. Yarışmaya birçok proje katılmıştır.

Aşağıdakilerden hangisi bu konu ile ilgili hazırlanmış bir proje olamaz?

- A) Harekete duyarlı musluk
- B) Zaman ayarlı sifon
- C) Atık suları arıtma makinesi
- D) Atıkları ayrıştıran geri dönüşüm kutusu

11)

Kullanım Alanları	Madenler
Uzay araçlarında yakıt olarak kullanılır .	Taş kömürü
Evlerde yakıt olarak kullanılır .	Bor
Elektromıknatısın yapımında kullanılır .	Bakır
Mücevher yapımında kullanılır .	Altın

Ali, madenleri kullanım alanları ile eşleştirirken bir hata yapmıştır.

Buna göre Ali'nin hatasını düzeltmek için hangi madenlerin isimleri yer değiştirilmelidir?

- A) Taş kömürü ile Bakır
- B) Bor ile Taş kömürü
- C) Altın ile Bor
- D) Bakır ile Altın

12) Su ve minerallerle ilgili aşağıda verilen bilgiler doğru ise Doğru, yanlış ise Yanlış sütununun altındaki kutucuk boyanacaktır.

	Doğru	Yanlış
Tüm besin maddelerinin içerisinde az ya da çok miktarda su ve mineral bulunur.	E	A
Su; nohut, buğday ve pirinç gibi kuru besinlerde bulunmaz.	S	K
Mineraller kemiklerin yapısında bol miktarda bulunur.	İ	E
Su ve mineraller vücutta düzenleyici besin grubundadır.	M	N

Buna göre boyama bittikten sonra yukarıdan aşağıya hangi sözcük oluşur?

- A) EKİM
- B) ESİN
- C) AKİM
- D) ESEN

13) Aşağıda bazı maddelerin ilk ve son sıcaklıkları verilmiştir.

	İLK SICAKLIK	SON SICAKLIK
K	30	60
L	90	70
M	20	50
N	40	10

Buna göre hangi maddeler ısı vermiştir?

- A) K ve L
- B) L ve N
- C) K ve N
- D) L ve M

14) Yukarıdakilerden hangileri, ses kirliliğine karşı alınacak önlemler arasında yer alır?

- A) I ve II
- B) I ve III
- C) II ve III
- D) I, II ve III



15) Yukarıdaki menüden hangi içeceği sipariş verirseniz saf bir madde istemiş olursunuz?

- A) Su
- B) Limonata
- C) Süt
- D) Şerbet



5. SINIF SEÇME SINAVI SOSYAL BİLGİLER TESTİ

- 1) Aşağıda bazı tarihi eserlerimiz verilmiştir.



Topkapı Sarayı



Safranbolu evleri



Pamukkale



Sultan Ahmet Camii

Buna göre hangi numara ile gösterilen resim tarihi eser değildir?

- A) I B) II C) III D) IV

- 2)



Alışverişe çıkmadan önce kendime mutlaka ihtiyaçlarım doğrultusunda bir liste yaparım. Aldığım ürünlerin de son kullanma tarihine, TSE damgası olup olmadığına mutlaka bakarım.

Buna göre Funda hanım ile ilgili olarak,

- I. Bilinçli bir tüketici olduğuna
II. Alışverişlerinde fiş almadığına
III. Garanti Belgesi olan ürünleri tercih edeceğine

Çıkarımlarından hangilerine ulaşılabilir ?

- A) Yalnız I B) I ve III
C) II ve III D) I, II ve III

- 3) I. Sivas Kongresi
II. Amasya Genelgesi
III. Erzurum Kongresi

Kurtuluş Savaşı sırasında gerçekleştirilen yukarıdaki genelge ve kongreler aşağıdaki seçeneklerden hangisinde düzenleniş tarihlerine göre sıralanmıştır?

- A) I – II – III B) III – II – I
C) II – I – III D) II – III – I

- 4) “....., daha önce bulunmayan bir şeyin ortaya çıkarılmasına denir. Bu işi yapanı ise denir.”

Yukarıdaki bilgilerde boş bırakılan alana aşağıdakilerden hangisinin sırasıyla yazılması doğru olur

- A) teknoloji – icat
B) mucit – icat
C) bilgi – bilgisayar
D) icat – mucit

- 5) Şehirlerde temizlik hizmetleri ile ilgilenir.

Şehir içinde zarar gören yolların bakımı ile ilgilenir.

Şehir içinde ulaşım hizmetlerini toplu taşıma araçları ile sağlar.



Yukarıda ‘?’ ile gösterilen yere aşağıdakilerden hangisi yazılmalıdır?

- A) Belediye B) Başbakanlık
C) Muhtarlık D) Kaymakamlık

- 6) Cansu ve Nida, 4/B sınıfında okuyan, aynı sırada oturan, birbirinden hiç ayrılmayan iki arkadaştır. Öğretmenlerinin istekleri doğrultusunda okullarında bulunan kulüplere üye olurlar. Ancak Cansu satranç kulübüne, Nida ise müzik kulübüne üye olmuştur.

Buna göre, Cansu ve Nida'nın farklı kulüplere üye olmaları aşağıdakilerden hangisiyle ilişkilendirilebilir?

- A) Fiziksel farklılıklarıyla
B) İlgili duydukları alanların farklı olmasıyla
C) Duygusal farklılıklarıyla
D) Ekonomik durumlarıyla

7)

Devletin topluma hizmet amacıyla kurduğu yerlere denir.

Yukarıdaki boşluğa aşağıdakilerden hangisi yazılmalıdır?

- A) Resmi Kurum B) Sosyal Örgüt
C) Eğitsel Kulüp D) Kamuoyu

8)

Doğu Anadolu'da eski karın üzerine sürekli yeni kar yağar. Ayrıca bu bölgelerde araziler eğimli ve ağaçsızdır.

Bu durum, insanların aşağıdaki doğal afetlerden hangisine karşı hazırlıklı olmasına neden olur?

- A) Çığ B) Deprem
C) Sel D) Yangın

9) SEÇİM → MİLLETVEKİLİ → TBMM

Yukarıdaki kelimeler ile aşağıdaki kavramlardan hangisi anlatılmaktadır?

- A) Ulusal Bağımsızlık
B) Ulusal Egemenlik
C) Yerel Yönetim
D) Kamuoyu

10)



O halde, Ali'nin yaşadığı yer Faruk'un yaşadığı yere göre'dir.

Telefon konuşmalarından yararlanarak yukarıda verilen boşluğa aşağıdakilerden hangisi yazılabilir?

- A) Batı'da B) Doğu'da
C) Kuzey'de D) Güney'de



5. SINIF SEÇME SINAVI DİN KÜLTÜRÜ VE AHLAK BİLGİSİ TESTİ

1)

*Bismillâhirrahmânirrahîm

*Sübhânallah

* Elhamdülillah

* Allâhuekber

Aşağıdakilerden hangisi, yukarıdaki dinî ifadelerden birinin anlamı değildir?

- A) Allah en büyüktür
- B) Hamd, Allah içindir
- C) Allah'tan başka ilah yoktur
- D) Rahman ve Rahim olan Allah'ın adıyla

2) Arkadaşlarının veya büyüklerinin yanına her gittiğinde selam veren Hasan'a arkadaşları neden sürekli selam verdiğini sormuştur. Hasan "- - - ." diyerek selam vermenin öneminden bahsetmiştir.

Bu metinde boş bırakılan yere, hangisinin yazılması uygun değildir?

- A) Selamlaşmak, kişinin kendini düşünmesidir.
- B) Selamlaşmak, Müslümanlığın güzelliklerindedir.
- C) Selam, insanlar için iyi dilekte bulunmaktır.
- D) Selam; huzur, barış ve sevginin bir ifadesidir.

3-)Kur'an-ı Kerim ile ilgili aşağıdaki bilgilerden hangisi yanlıştır?

- A) Son ilahi kitap olarak gönderilmiştir.
- B) Hz. Muhammed'e (sav.) indirilmiştir.
- C) İnsanlara doğru yolu göstermek için gönderilmiştir.
- D) Bir bütün hâlinde ve tek seferde indirilmiştir.

4) "İman esasları İslam dininin temelini oluşturur. Bir ve tek olan Yaraticı'nın, tüm evreni ve içindekileri yarattığına; yağmurun yağması, bitkilerin büyümesi gibi pek çok olayda görevli gözle görülmeyen varlıkların bulunduğu; yeryüzünde seçilmiş bazı insanlara uyarıcı ve müjdeleyici emir ve yasakların iletilmesine inanmak bu esaslardan bazılarıdır."

Bu metinde aşağıdaki imanın şartlarından hangisine değilmemiştir?

- A) Allah'a iman
- B) Kadere iman
- C) Meleklerle iman
- D) Peygamberlere iman

5) Yüce Allah Kur'an'da, Hz. Peygamber'e hitaben şöyle buyurmuştur: "Allah'ın rahmeti sayesinde sen onlara karşı yumuşak davran-dın. Eğer kaba, katı yürekli olsaydın, onlar senin etrafından dağılıp giderlerdi..."
(Âl-i İmrân suresi, 159. Ayet)

Bu ayette Hz. Peygamber'in, İslam dinine davetinde başarılı olmasının nedenlerinden hangisi vurgulanmıştır?

- A) İnsanlar arasında adaletle hükmetmesi,
- B) Etrafındakilere karşı kibar davranması,
- C) Kendisi için istediğini başkaları için de iste-mesi,
- D) Çevresindekileri kendisinden daha fazla düşünmesi.

6) Hz. Muhammed (sav.) kişinin, arkadaşını seçerken dikkat etmesi gerektiğini ifade etmiştir. Buna göre iyi bir insanla arkadaşlık eden kişi bu arkadaşlıktan olumlu etkilenip yarar görebilir, kötü biriyle arkadaşlık eden ise bundan olumsuz etkilenerek zarar görebilir.

Aşağıdaki atasözlerinden hangisi Hz. Peygamber'in bu öğretisi ile ilgilidir?

- A) Üzüm üzüme baka baka kararır.
- B) Akıl yaşta değil, baştadır.
- C) Ağaç yaş iken eğilir.
- D) Damlaya damlaya göl olur.

7) Güzel davranışlar insanın ahlakını güzelleştirir. Böylece güzel ahlak sahibi kimsenin kalbi de temiz olur. Buna "manevi temizlik" denir.

Buna göre aşağıdakilerden hangisi manevi temizlik örneği değildir?

- A) İnsanların iyiliğini istemek
- B) Kötü davranışlardan uzak durmak
- C) Kalbini kırdığımız kişiden özür dilemek
- D) Kıyafetimizi temiz tutmak

8) Yüce Allah; Hz. Muhammed'e (sav.)yılında, Gecesi'nde, Hira Mağarası'nda iken..... (as.) adlı melek aracılığıyla.....suresinin ilk beş ayetini vahyetti.

Metindeki boşluklara aşağıdakilerden hangileri sırasıyla yazılmalıdır?

- A) 571-Berat-Cebrail-Kadir
- B) 610-Kadir-Mikail-Alak
- C) 610-Kadir-Cebrail-Alak
- D) 610-Kadir-Cebrail-Fatiha

9) Hz. Muhammed (sav.) gençlik yıllarında Mekke'de yaşanan haksızlıklarla mücadele etmekve haksızlığa uğrayanlara yardım etmek için oluşturulan Hilfü'l-Fudûl'a (Erdemliler Topluluğu) katılmıştır. Peygamberliği döneminde de bu topluluğun çalışmalarından övgüyle söz etmiştir.

Buna göre Hz. Muhammed'i (sav.) örnek alan bir kişinin aşağıdaki davranışlardan hangisini yapması beklenmez?

- A) Haklı kimselerin yanında yer alması,
- B) Kendi dışındaki problemlere duyarsız kalması,
- C) Sosyal sorunların çözümünde iş birliğine açık olması,
- D) İnsanlar arasındaki anlaşmazlıkları adil yollarla çözmeye çalışması.

10) "Ey iman edenler! Namaz kılmaya kalktığınız zaman yüzlerinizi, dirseklere kadar ellerinizi yıkayın; başlarınızı mesh edip topuklara kadar ayaklarınızı da yıkayın..." (Mâide suresi, 6. Ayet)

Yukarıdaki ayette açıklaması verilen ibadet hangisidir?

- A) Oruç tutmak
- B) Kur'an-ı Kerim okumak
- C) Abdest almak
- D) Namaz kılmak



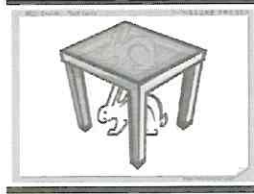
5. SINIF SEÇME SINAVI İNGİLİZCE TESTİ

1) Aşağıdakilerden hangisi "What do you do in the morning?" sorusunun cevabı olamaz?

- A) I have dinner.
- B) I wash my face.
- C) I wake up.
- D) I brush my teeth.

2) Where is the rabbit?

- A) It is on the table.
- B) It is under the table.
- C) It is behind the table.
- D) It is in the table.



3) Actor and actress work at

- A) hospital
- B) school
- C) theatre
- D) farm

4. -What's your job?

-.....

Sorunun cevabı hangisidir ?

- A) My name is Elif
- B) I am a doctor.
- C) I am fine
- D) I like music.

5. It is sunny outside. Take your

- A) gloves
- B) sunglasses
- C) scarf
- D) umbrella

6) In summer, the weather is always _____ and _____ in Turkey.

- A) cold / snowy
- B) cool / rainy
- C) hot / sunny
- D) warm / cloudy

7) I have _____ hair



Resme göre cümleyi tamamlayan ifade

Hangisidir?

- A) short
- B) straight
- C) blonde
- D) curly

8. Jack : _____ ?

Ewan : He is funny and cheerful.

- A) What does he look like
- B) How old is he?
- C) What is his name?
- D) What is he like?

9) A: Do you want some water ?

B: J

A) No, thanks, maybe later

B) I don't like water

C) Yes, please. Thank you

D) Not now, thanks.

10) A: _____.

B: Would you like some water?

A) I'm hungry.

B) I'm happy.

C) I'm thirsty.

D) I'm tired.

**TÜM ÖĞRENCİLERİMİZE
BAŞARILAR DİLERİZ...**

SINAVA BAŞLAMADAN AŞAĞIDAKİ UYARILARI MUTLAKA OKUYUNUZ.

1. Öğrenciler, sınav kurallarına ve salon görevlilerin tüm uyarılarına uymak zorundadır.
2. Cevap kâğıdındaki kimlik bilgilerini doğru kodlayınız.
3. Sınav başladıktan sonra öğrencilerin salon görevlileri veya birbirleri ile konuşmaları; kalem, silgi, vb. şeyleri istemeleri yasaktır.
4. Cevaplarımızı, cevap kâğıdındaki ilgili soru numarasını dikkate alarak yuvarlağın dışına taşırmadan kodlayınız.
5. Değiştirmek istediğiniz bir cevabı , yumuşak silgiyle cevap kâğıdını yıpratmadan temizce siliniz ve yeni cevabınızı kodlayınız.
6. Soru kitapçığının sayfalarını kontrol ediniz, baskı hatası varsa değiştirilmesini isteyiniz.
7. Soru kitapçığı üzerinde yapılsa dahi optik kâğıda işaretlenmeyen cevaplar değerlendirmeye alınmayacaktır.
8. Bilmediğiniz soruları boş bırakınız. 3 yanlış cevap 1 doğru cevabı götürcektir.
9. Sınav puanınızın hesaplanmasında önce net sayıya, net sayısının eşitliği halinde doğru cevaplarınızın sayısına bakılacaktır. Doğru ve yanlış cevap sayılarının eşitliği halinde doğum tarihi bakılacaktır.
10. Sınav bitiminde, cevap kâğıdını salon görevlilerine teslim ediniz.
11. Sınav sırasında cep telefonu, bilgisayar vb. elektronik cihazları yanınızda bulundurmanız halinde sınavınız geçersiz sayılacaktır.
12. Cevap kâğıdınızı sınav süresince hiçbir öğrencinin göremeyeceği şekilde önünüzde bulundurunuz.
13. Sınavınızın değerlendirilmesi aşamasında, toplu kopya tespiti veya başka adayın sınav evrakını kullanmanız durumunda sınavınız geçersiz sayılacaktır.
14. Cevap kâğıdını teslim etmeyenlerin sınavı geçersiz sayılacaktır.

SINAV GÖREVLİLERİNCE SINAV BAŞLAMADAN ÖNCE ÖĞRENCİLERE YAPILACAK EN SON UYARI

- Soracağınız bir şey var mı? Varsa, şimdi sorunuz.
- Sınav başladıktan sonra sorularınızı cevap verilmeyecektir.
- Başlama zilini bekleyiniz.

Hepinize başarılar dileriz.

(Sınav başlama ve bitiş saatleri)

10.00 - 12.00

Bu kitapçığın her hakkı saklıdır. Hangi amaçla olursa olsun, kitapçığın tamamının veya bir kısmının Trabzon Milli Eğitim Müdürlüğü'nün yazılı izni olmadan kopya edilmesi, fotoğraflarının çekilmesi, bilgisayar ortamında alınması, herhangi bir yolla çoğaltılması, yayımlanması veya başka bir amaçla kullanılması yasaktır. Bu yasağa uymayanlar, doğabilecek cezai sorumluluğu ve kitapçığın hazırlanmasındaki mali külfeti peşinen kabullenmiş sayılır.



<http://hikmetkaaniho.meb.k12.tr>
0462 841 20 15
0462 841 20 16



<http://hikmetkaaniho.meb.k12.tr>
0462 341 11 65 / 0538 839 92 93
0462 341 11 65